



وزارة التربية  
الادارة العامة لمنطقة الفروانية التعليمية  
التوجيه الفني للاجتماعيات

مرشد  
الصف السابع

أسئلة تفصيلية  
للكتاب

أ. د. دلال محمد الأنصاري  
موجهة فني أول إجتماعيات  
وزارة التربية  
الإدارة العامة لمنطقة الفروانية التعليمية  
توجيه الاجتماعيات

الدراسات الاجتماعية  
الكويت والوطن العربي  
لصف السابع

أ: زينب الأشوك

أ: عهد النمشان

فريق

أ: فرح الدويخ

الاعداد:

مراجعة:

رئيسة قسم الاجتماعيات في مدرسة عمرة الأنصارية : افاطمة الصفران

اشراف عام : الموجه الفني : حمد ابراهيم البحوه

مكتب التوجيه الفني للاجتماعيات أدلال محمد الانصاري

مكتب التوجيه الفني للاجتماعيات منطقة الفروانية التعليمية



[https://t.me/fr\\_social](https://t.me/fr_social)



@fr\_social1



fr social



fr\_social



<https://www.sskuwait.net/>



## المقدمة :

يعد وضع أسئلة الاختبارات موضوعا حساسا، ودقيقا، إذ تشكل الأسئلة المقياس الأساسي في معرفة تطور الطالب، ومدى تحصيله الذي اكتسبه خلال دراسته للمادة، لذلك يجب أن توضع هذه الأسئلة بدقة كبيرة، بحيث تكون شاملة للمقرر الدراسي ومراعية لمستوى الطلبة، ولذلك يسرنا أن نقدم لكم استكمال لسلسلة المرشد الشامل مرشد الصف السابع مقرر دولة الكويت والوطن العربي في طبعته الثانية بعد ( دليل الالكتروني للصف السابع عام ٢٠١٧/٢٠١٨ م ) حيث يشمل أسئلة تفصيلية واضحة، وشاملة لجميع أسئلة بناء الاختبارات مع مراعاة معايير صياغة الاختبار والتي تم استخلاصها من ملف معايير صياغة الأسئلة المدرج في موقع التوجيه الفني للاجتماعيات ، نهدىها الى كل من احتاج اليها من متعلمين ومعلمين ورؤساء أقسام سائلين المولى - سبحانه وتعالى - أن نكون قد وفقنا في تقديم المادة وعرضها وينفع به - حفظ الله الكويت وشعبها

## فريق الإعداد



الوحدة الاولى : الوطن العربي  
مقومات وملامح جغرافية



١- أكمل العبارات التالية بما يناسبها فيما درست :

- ١- يمتد الوطن العربي ضمن قارتين من أكبر قارات العالم مساحتها قارتي آسيا وقارة أسهما .....
- ٢- من السمات المشتركة التي تجمع الدول العربية الدين ولغتها أسهما .....
- ٣- تبلغ مساحة الوطن العربي حوالي.....مليون كم٢
- ٤- تمثل مساحة الوطن العربي من جملة مساحة العالم نحو.....%
- ٥- الدولة العربية التي تقع خارج نطاق موقع الوطن العربي اسمها .....
- ٦- العام الذي انضمت فيه جمهورية جزر القمر إلى الجامعة العربية.....
- ٧- يطلق على عاصمة جمهورية جزر القمر اسم .....
- ٨- البحر الذي يفصل الجناح الآسيوي عن الجناح الأفريقي اسم.....
- ٩- الدولة العربية التي يمر بها خط الاستواء اسمها.....
- ١٠- الدولة العربية التي يمر بها خط جرينتش اسمها.....
- ١١- القارة المجاورة للوطن العربي من جهة الشمال اسمها.....
- ١٢- المسطح المائي الذي يحد الوطن العربي من جهة الغرب اسمه.....
- ١٣- يشكل سكان الوطن العربي بالنسبة لسكان العالم تقريبا حوالي .....
- ١٤- تنافست الدول الاستعمارية للاستيلاء على دوا الوطن العربي منذ القرن .....
- ١٥- أكثر الأشكال التضاريسية انتشارا في الوطن العربي اسمها .....
- ١٦- يطلق على وزن الهواء فوق أي مكان اسم .....
- ١٧- يستخدم لحاء البلوط والسنديان في صناعه اسمها.....
- ١٨- يطلق على الحشائش المعتدلة الاستبس في بلاد المغرب اسم .....
- ١٩- أهم مصادر المياه في الوطن العربي وتتماز بأنها مياه عذبة اسمها .....
- ٢٠- اعتمدت دولة الكويت على تحلية مياه البحر بمحطة الشويخ منذ عام .....

٢ ) اكتب المفاهيم أو المصطلحات الدالة على العبارات التالية :

المفهوم أو المصطلح	العبارة
١	مجموعة من الدول العربية التي يجمعها عدد من السمات المشتركة ويمتد ضمن قارتين من اكبر قارات العالم مساحت
٢	أي موقع ذي مكانة مهمة بين دول العالم .
٣	جميع اشكال المياه على سطح الأرض مثل البحار والخلجان والمحيطات والبحيرات والانهار ..... الخ .
٤	مجرى مائي صناعي ضيق يشق لأغراض الري او النقل .
٥	ممر مائي ضيق يصل بين بحرين او محيطين او مساحتين كبيرتين نسبيا من الماء .
٦	هو نقطه من الكره الأرضية يتحدد موقعها بخطوط الطول ودوائر العرض .
٧	موقع الدولة بالنسبة لليابس والماء .
٨	هو كل ما ارتفع من الأرض وله قمة لا يقل ارتفاعها عن ١٠٠٠ متر .
٩	أرض مرتفعة سطحها مستو وتمتد على مساحة كبيرة .
١٠	مساحه كبيره من سطح الارض تتميز باستوائها وقله ارتفاعها .
١١	الأراضي المنخفضة التي تكونت من التربة التي تحملها مياه الانهار .
١٢	الأراضي المنبسطة التي تجاور سواحل البحار والمحيطات .
١٣	حالة الجو خلال فترة زمنية طويلة من حيث درجة الحرارة والرطوبة والأمطار والرياح
١٤	حالة الجو في مكان لمدة قصيرة تتراوح بين يوم أو عدة أيام من حيث درجة الحرارة والرطوبة والأمطار والرياح والضغط الجوي
١٥	وزن الهواء فوق أي مكان
١٦	النبات الذي ينمو تلقائيا عقب سقوط المطر دون تدخل من الإنسان
١٧	حشائش طويلة يختلف نوعها حسب كمية الأمطار
١٨	حشائش قصيرة نوعا ما تنمو في الشتاء خلال موسم سقوط الأمطار
١٩	مجرى مائي عذب ينحدر على الدوام لينتهي إلى بحر أو إلى نهر آخر أو ينتهي تدريجيا في الصحراء
٢٠	المياه التي توجد في جوف الأرض
٢١	الماء الجاري ( مجرى صغير مائي في الأرض)
٢٢	مسطح المائي الذي تحيط به اليابسة من جميع الاتجاهات

٣) ظلل الخيار الصحيح من بين الخيارات التي تلي كل عبارة:

١- يمتد الوطن العربي بين قارتي			
آسيا وأفريقيا	آسيا وأوروبا	آسيا وأستراليا	آسيا وأمريكا الجنوبية
٢- تبلغ مساحة الوطن العربي حوالي			
١٢,٥٠٠ مليون كم <sup>٢</sup>	١٣,٥٠٠ مليون كم <sup>٢</sup>	١٤,٥٠٠ مليون كم <sup>٢</sup>	١٥,٥٠٠ مليون كم <sup>٢</sup>
٣- تمثل مساحة الوطن العربي من جملة مساحة العالم نحو			
١٠٪	٢٠٪	٣٠٪	٤٠٪
٤- العام الذي انضمت فيه جمهورية جزر القمر إلى الجامعة العربية...:			
١٩٩٢ م	١٩٩٣ م	١٩٩٤ م	١٩٩٥ م
٥- القارة المجاورة للوطن العربي من جهة الشمال اسمها			
آسيا	أوروبا	أستراليا	أمريكا الجنوبية
٦- المسطح المائي الذي يحد الوطن العربي من جهة الغرب يسمى			
البحر المتوسط	المحيط الهندي	المحيط الأطلسي	المحيط الهادي
٧- يشكل سكان الوطن العربي بالنسبة لسكان العالم تقريبا حوالي			
٣٪	٤٪	٥٪	٦٪
٨- أكثر الاشكال التضاريسية انتشارا في الوطن العربي اسمها			
التلال	الجبال	السهول	الهضاب

٤) صوب ما تحته خط في العبارات التالية:

الرقم	العبرة	التصويب
١.	يمتد الوطن العربي بين قارتي آسيا و أوروبا.	
٢.	تبلغ مساحة الوطن العربي حوالي ١٤,٥٠٠ مليون كم <sup>٢</sup>	
٣.	تبلغ مساحة الوطن العربي بالنسبة لمساحة العالم نحو ٣٠٪.	
٤.	دولت فلسطين انضمت إلى الجامعة العربية في عام ١٩٩٢	
٥.	انضمت جمهورية جزر القمر إلى الجامعة العربية في عام ١٩٩٤.	
٦.	تقع جمهورية جزر القمر في المحيط الأطلسي.	
٧.	القارة المجاورة للوطن العربي من جهة الشمال تسمى استراليا.	
٨.	يحد الوطن العربي من جهة الغرب المحيط الهندي.	
٩.	أكثر الاشكال التضاريسية انتشارا في الوطن العربي هي السهول	
١٠.	يستخدم لحاء البلوط والسنديان في صناعه الحبال	
١١.	يطلق على الحشائش الحارة السافانا في بلاد المغرب اسم الحلفا	
١٢.	نباتات تقاوم الجفاف من خلال عدة وسائل جذورها طويلة هي النباتات الطبيعية	
١٣.	حشائش قصيرة نوعا ما تنمو في الشتاء خلال موسم سقوط الأمطار هي السافانا	
١٤.	حشائش طويلة يختلف نوعها حسب كمية الأمطار هي الاستبس	
١٥.	من أهم مصادر المياه العذبة في الوطن العربي هي البحيرة	
١٦.	بدأت دولة الكويت تعتمد اعتمادا كاملا على تحلية مياه البحر منذ عام ١٩٥٩م	
١٧.	أول محطة تحلية مياه في دولة الكويت هي محطة الزور	
١٨.	أكثر الدول العربية استخداما للمياه المحلاة هي ليبيا	
١٩.	تبلغ نسبة استخدام المياه المحلاة في دولة الكويت ٤٦٪	



(5) أكمل المخططات السهمية التالية:

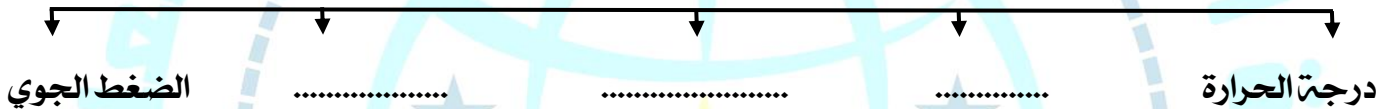
١- مقومات الهوية العربية



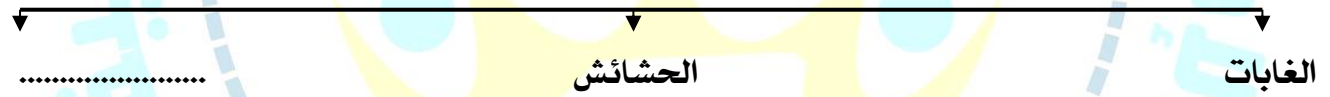
٢- أشكال المسطحات المائية



٣- عناصر المناخ



٤- الحياة النباتية في الوطن العربي



٥- مصادر المياه في الوطن العربي



أشكال المياه الجوفية في الوطن العربي





## ٦) صنف الكلمات التالية إلى مكانها المناسب في الجدول التالي:

١- الأهمية الجغرافية - الأهمية الاقتصادية - الأهمية الحضارية والثقافية

ظهور النفط	أرض الديانات السماوية	يشغل مكان وسط قارات العالم الثلاث
.....	.....	.....

٢- مرة - عسير - الصحراء الكبرى - قاسيون - نجد - أطلس


جبال	هضاب
.....	.....

٣- الابل - البوم - الجراد - الأفاعي - الجربوع - العقارب - الحباري - الأرنب - الماعز - الصقور - الخنافس - الفئران

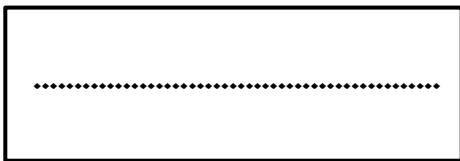
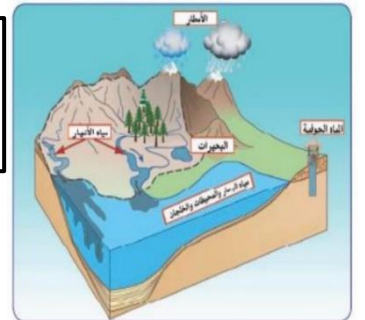
الحيوانات	الطيور	الحشرات	الزواحف	الحيوانات القارضة
.....	.....	.....	.....	.....

٤- (الشويخ / الاحساء / رأس عبود / أبو فنتاس)

السعودية	قطر	الكويت
.....	.....	.....



## ٧) ضع عنوانا مناسباً للأشكال التالية:



( ٨ ) لاحظ خريطة خطوط الطول ودوائر العرض ثم اجب عن الأسئلة

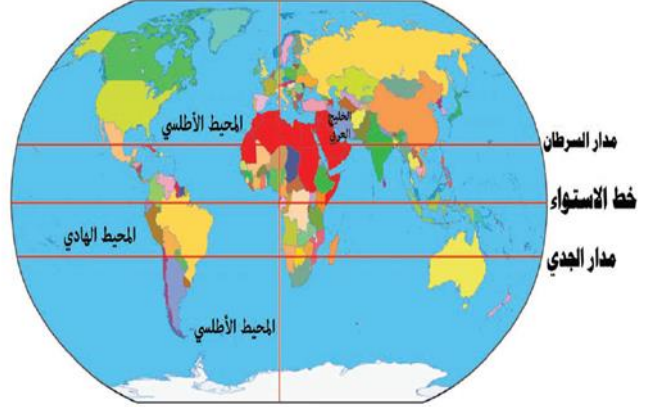
١- ما هو الخط الاساسي لخطوط الطول ؟ .

.....

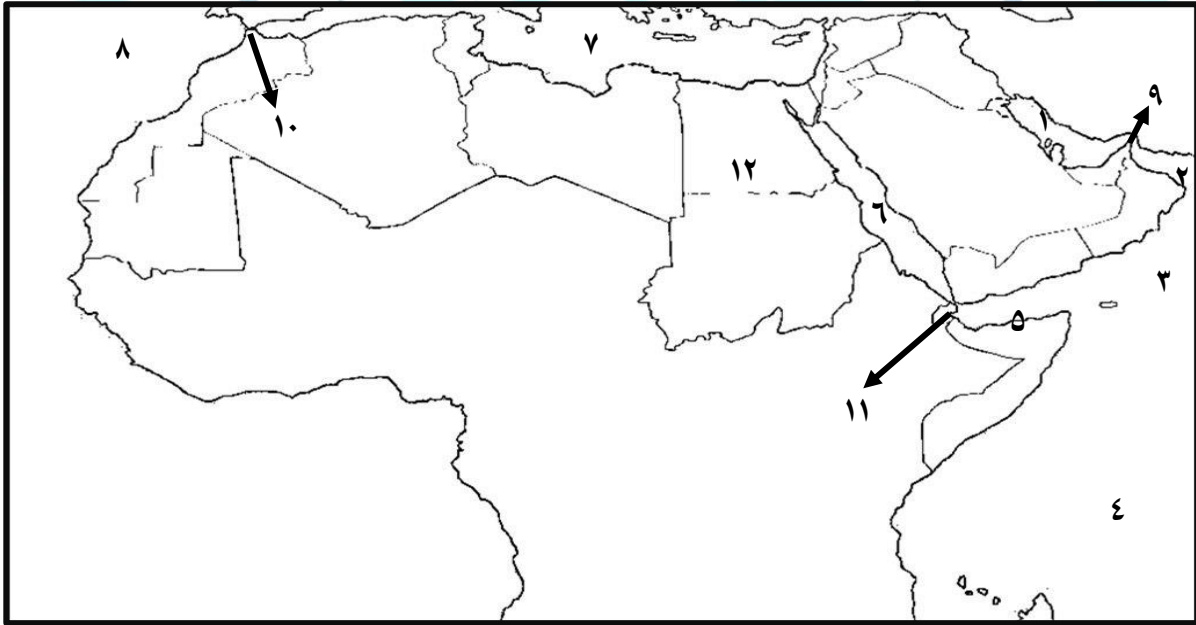
٢- ما الدولة العربية التي يمر بها خط الاستواء

.....

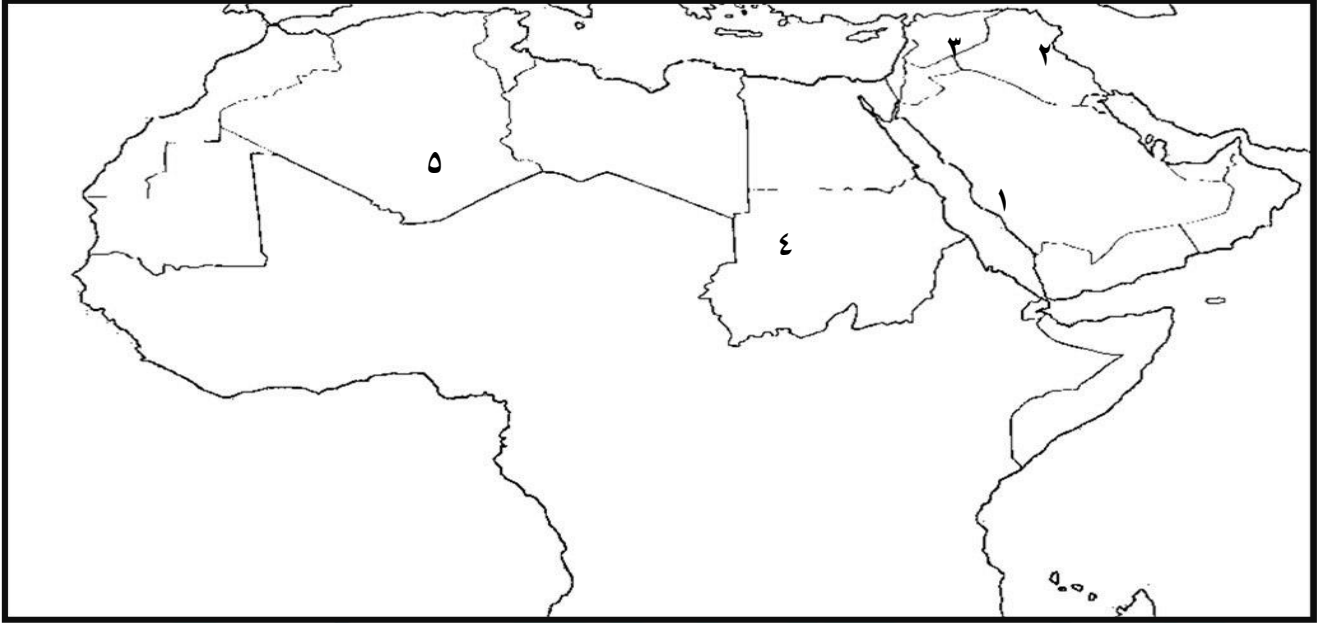
٣- كم يبلغ عدد دوائر العرض ؟.....



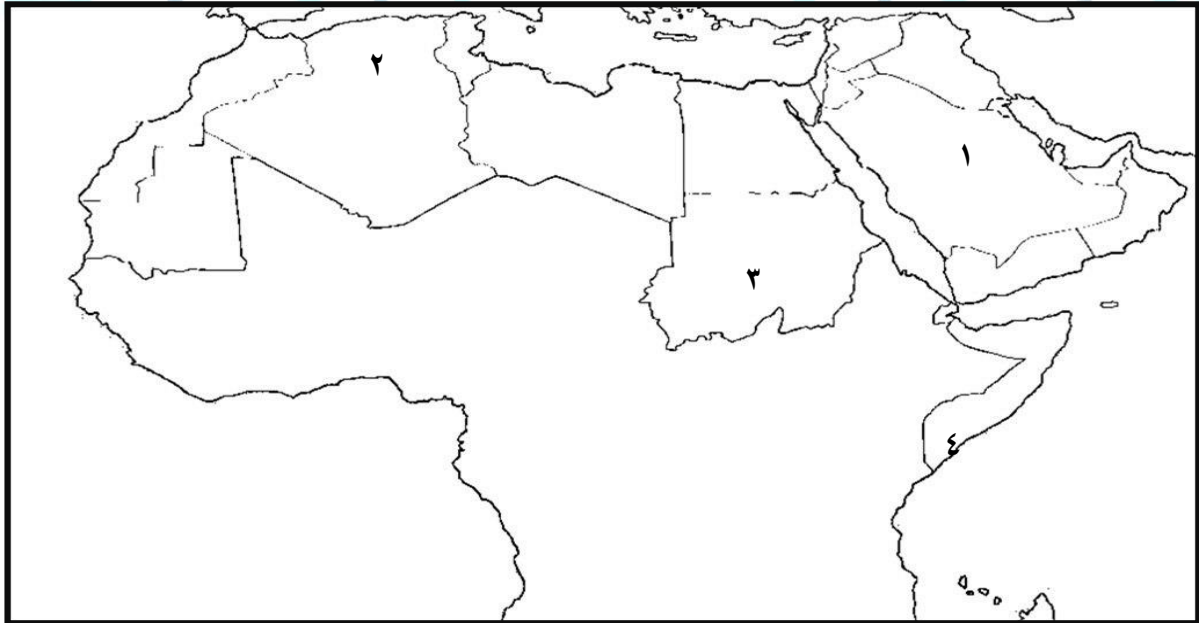
( ٩ ) أمامك خريطة الوطن العربي نفذ المطلوب :



- يشير الرقم ( ١ ) إلى سطح مائي اسمه .....
- يشير الرقم ( ٢ ) إلى سطح مائي اسمه .....
- يشير الرقم ( ٣ ) إلى سطح مائي اسمه .....
- يشير الرقم ( ٤ ) إلى سطح مائي اسمه .....
- يشير الرقم ( ٥ ) إلى سطح مائي اسمه .....
- يشير الرقم ( ٦ ) إلى سطح مائي اسمه .....
- يشير الرقم ( ٧ ) إلى سطح مائي اسمه .....
- يشير الرقم ( ٨ ) إلى سطح مائي اسمه .....
- يشير الرقم ( ٩ ) إلى مضيق مائي اسمه .....
- يشير الرقم ( ١٠ ) إلى مضيق مائي اسمه .....
- يشير الرقم ( ١١ ) إلى مضيق مائي اسمه .....
- يشير الرقم ( ١٢ ) إلى الدولة العربية التي توجد بها قناة السويس اسمها .....



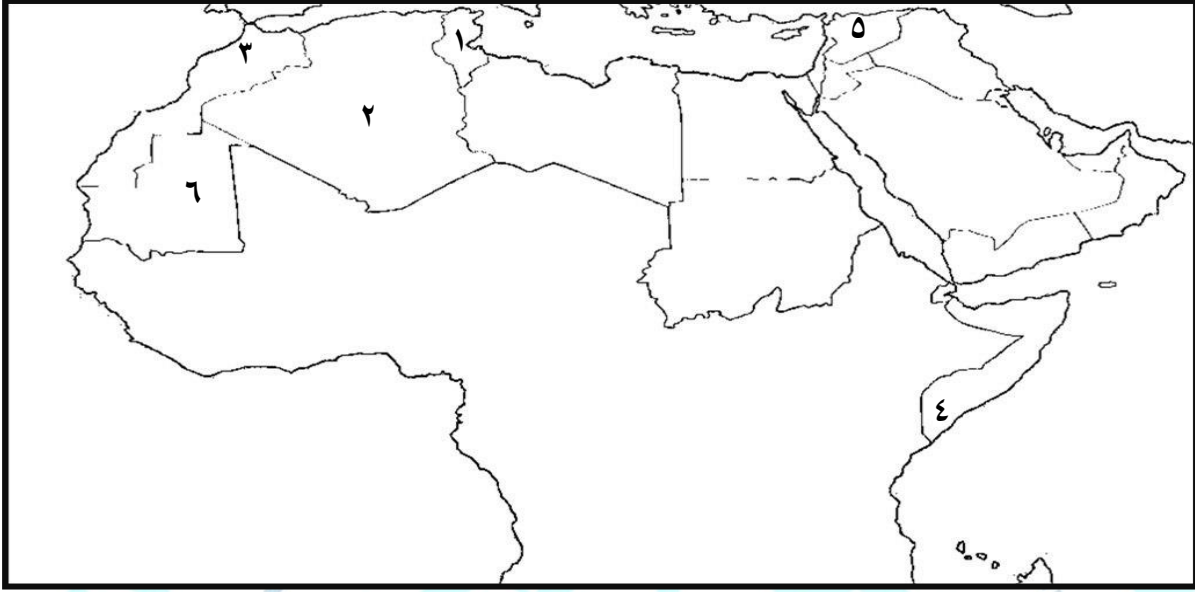
- جبال عسير يمثلها الرقم ( )
- جبل قاسيون يمثله الرقم ( )
- جبال الأحجار تمثل الرقم ( )
- جبل شيخا دار يمثله الرقم ( )
- جبل مره يمثله الرقم ( )



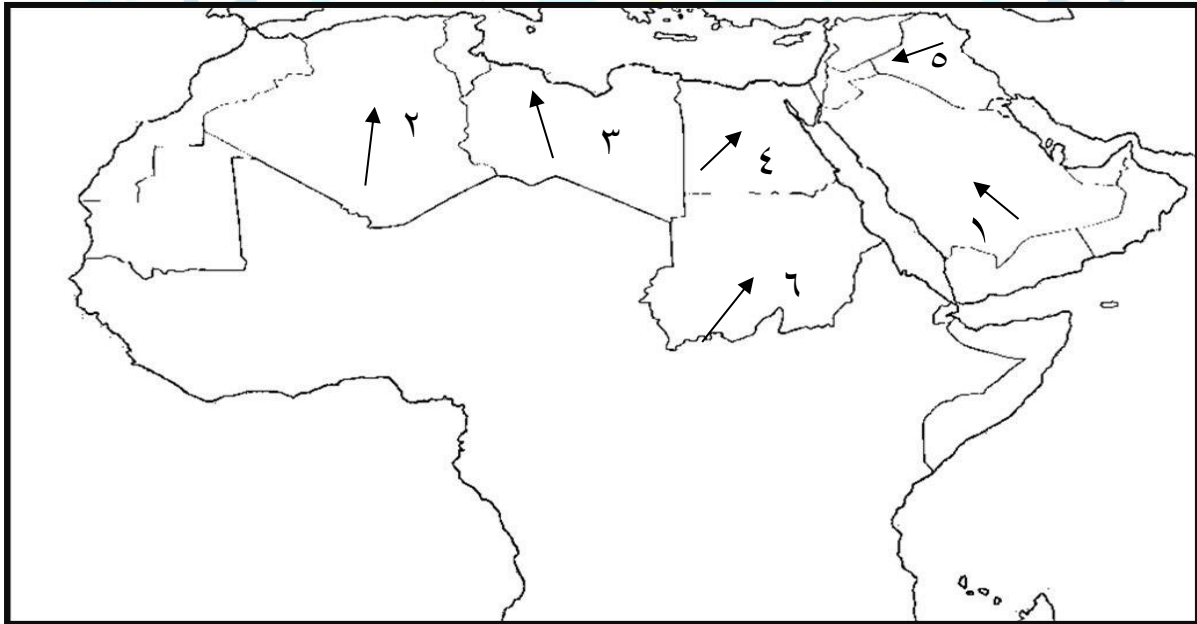
- هضبة نجد يمثلها الرقم ( )
- هضبة الشطوط يمثلها الرقم ( )
- حدد الدول العربية التي توجد بها هضبة الصحراء الكبرى باستخدام الرمز //
- حدد الدول العربية التي توجد بها هضبة بادية الشام باستخدام الرمز XXX



### أمامك خريطة الوطن العربي الصماء نفذ المطلوب :



- نهر المجردة يمثلها على الخريطة الرقم ( )
- نهر السوس يمثلها على الخريطة الرقم ( )
- نهر جوبا يمثلها على الخريطة الرقم ( )
- نهر الشليف يمثلها على الخريطة الرقم ( )
- سهل العلوين يمثلها على الخريطة الرقم ( )



- رياح الخماسين يمثلها على الخريطة الرقم ( )
- رياح القبلي يمثلها على الخريطة الرقم ( )
- رياح السموم يمثلها على الخريطة الرقم ( )
- رياح الشرقية يمثلها على الخريطة الرقم ( )
- رياح الهبوب يمثلها على الخريطة الرقم ( )

(١) فرق بين كل مما يلي :

القناة	المضيق
.....	.....

السهول الفيضية	السهول الساحلية
.....	.....

المناخ	الطقس
.....	.....
.....	.....

(٢) قارن بين كل مما يأتي :

١/ حشائش السافانا والاستبس من حيث التعريف والاستخدام

وجه المقارنة	الحشائش الحارة (السافانا)	الحشائش المعتدلة (الاستبس)
التعريف	.....	.....
الاستخدام	.....	.....

٢/ الغابات المدارية الحارة و الغابات المعتدلة من حيث المطلوب

وجه المقارنة	الغابات المدارية الحارة	الغابات المعتدلة
أهم أشجارها	.....	.....
مميزات أشجارها	.....	.....
استخداماتها	.....	.....

( ٣ ) عرف المفاهيم أو المصطلحات التالية :

- ١- الوطن العربي : .....
- ٢- الموقع الإستراتيجي : : .....
- ٣- المسطحات المائية : .....
- ٤- القناة : .....
- ٥- المضيق : : .....
- ٦- الموقع الفلكي : : .....
- ٧- الموقع النسبي : : .....
- ٨- الجبل : .....
- ٩- الهضبة : : .....
- ١٠- السهول : : .....
- ١١- السهول الفيضية (النهرية) : : .....
- ١٢- السهول الساحلية : : .....
- ١٣- المناخ : : .....
- ١٤- الطقس : .....
- ١٥- الضغط الجوي : .....
- ١٦- الإقليم : : .....
- ١٧- النبات الطبيعي : : .....
- ١٨- النهر : : .....
- ١٩- المياه الجوفية : : .....
- ٢٠- الأفلاج : الماء الجاري : .....
- ٢١- البحيرة : : .....



(٤) علل لما يلي:

١- للوطن العربي أهمية جغرافية

أ) - .....  
ب) - .....

٢- يتمتع الوطن العربي بأهمية اقتصادية كبيرة منذ القدم

أ) - .....  
ب) - .....

٣- للوطن العربي أهمية حضارية وثقافية

أ) - .....  
ب) - .....

٤- المدن الساحلية أكثر اعتدالا في المناخ صيفا وأدفا نسبيا شتاء

٥- ترتفع درجة الحرارة في بعض المدن مثل الرياض والقاهرة بينما تنخفض درجة الحرارة في الفصل نفسه في المناطق المرتفعة مثل جبال سوريا ولبنان والطائف في السعودية

٦- ارتفاع الحرارة في وسط الوطن العربي صيفا

٧- ارتفاع الحرارة جنوب الوطن العربي شتاء

٨- تنوع النبات الطبيعي في الوطن العربي

٩- تختلف نوع الحشائش الحارة (السافانا) في دول الوطن العربي

١٠- قدرة النباتات الصحراوية على تخزين المياه

(5) أجب عن ما يلي:

١) ما النتائج المترتبة على تمتع الوطن العربي بأهمية جغرافية

.....

٢) عدد عناصر المناخ

..... (ب)

٣) ما العوامل التي تؤثر في مناخ الوطن العربي

..... (أ)

..... (ب)

٤) كيف تؤثر التضاريس على المناخ بصورة مباشرة

..... (ب)

٥) كيف تؤثر الرياح على المناخ بصورة مباشرة

..... (ب)

٦) ما العوامل التي تؤثر في تنوع النبات الطبيعي في الوطن العربي

..... (ب)

٧) ما أنواع الحياة النباتية في الوطن العربي

..... (ب)

٨) عدد وسائل مقاومة النباتات الصحراوية للجفاف

..... (ب)

٩- عدد أهم الحيوانات السائدة في المنطقة الصحراوية

..... (ب) ..... (أ)

١٠- عدد مصادر المياه في الوطن العربي

..... (ج) ..... (أ)

..... (د) ..... (ب)

١١- ما صفات الأمطار في الوطن العربي:

..... (ب) ..... (أ)

١٢- ما أشكال المياه الجوفية

..... (ب) ..... (أ)

١٣- عدد محطات التحلية في الوطن العربي

..... (ب) ..... (أ)

١٤- ما طرق ترشيد استخدام المياه

..... (ج) ..... (أ)

..... (د) ..... (ب)





الوحدة الثانية : الوطن العربي  
مهد الحضارات والديانات  
السماوية

## الأسئلة الموضوعية

### ١. أكمل العبارات التالية بما يناسبها فيما درست :

١. أكثر الحضارات القديمة في العالم والأكثر انتشاراً اسمها .....
٢. عرفت الكتابة عند الحضارة المصرية باسم .....
٣. الورق المستخدم في الكتابة عند المصريين اسمه .....
٤. سيطر على بلاد الرافدين خلال تاريخها القديم ..... شعوب
٥. يطلق اسم بلاد الرافدين أو بلاد ما بين النهرين على دولة عربية حالياً اسمها .....
٦. اخترع السومريون نوعاً من الكتابة عرفت باسم .....
٧. أقدم كتابة في العالم عرفت باسم الكتابة .....
٨. عدد حروف الكتابة المسمارية يبلغ ..... حرفاً.
٩. أقدم أنواع الكتابة في العالم وحروفها تشبه المسمار اسمها .....
١٠. ظهرت شرائع قانونية قديمة من أهمها شريعة حمورابي في بلاد .....
١١. يبلغ عدد المواد القانونية لشريعة حمورابي التي ظهرت في بلاد الرافدين ..... مادة
١٢. تقع أكثر مناطق شبه الجزيرة العربية ملائمة لقيام الحضارة في جهة .....
١٣. تأسست حضارة جنوب غرب شبه الجزيرة العربية منذ ..... ق م
١٤. أشهر ملوك سبأ التي ورد ذكرها في القرآن الكريم اسمها .....
١٥. أشهر ممالك اليمن القديمة التي ورد ذكرها في القرآن الكريم مملكة اسمها .....
١٦. أشهر سدود جنوب غرب شبه الجزيرة العربية اسمه .....
١٧. الخط الذي كانت تكتب به الأبجدية اسمه .....
١٨. عدد حروف الأبجدية في حضارة جنوب غرب شبه الجزيرة العربية تتألف من ..... حرفاً
١٩. لقبو بأسياذ التجارة العربية هم أهل .....
٢٠. حضارة تقع وسط حضارات الشرق القديم اسمها .....
٢١. الاسم الذي أطلق على البحرين قديماً قبل الفتح الإسلامي .....
٢٢. العام الذي أنزل فيه القرآن الكريم على سيدنا محمد في مكة المكرمة .....
٢٣. للحضارة العربية الإسلامية فضل كبير في إثراء الحضارة الأوروبية منذ القرن .....

٢) اكتب المفاهيم أو المصطلحات الدالّة على العبارات التالية:

المفهوم أو المصطلح	العبرة
١)	كل ما يطرأ على المجتمع من تقدم وتطور في جميع نواحي الحياة الدينية والسياسية والاقتصادية والاجتماعية والفكرية
٢)	بلاد ما بين النهرين , ويطلق عليها حالياً اسم العراق
٣)	اسم يطلق على البحرين قديماً نسبة إلى صنم اسمته أوال كانت تعبدته قبيلته وائل التي حكمت البحرين آنذاك
٤)	الديانة التي نزلت على سيدنا موسى عليه السلام وكتابها التوراة
٥)	الديانة التي نزلت على سيدنا عيسى ابن مريم عليه السلام وكتابها الانجيل
٦)	الديانة التي نزلت على سيدنا محمد صلى الله عليه وسلم عام ٦١٠م في مكة المكرمة وكتابها القرآن الكريم

٣) ظلل الخيار الصحيح من بين الخيارات التي تلي كل عبارة:

١/ يطلق اسم بلاد الرافدين أو بلاد ما بين النهرين على دولة عربية حالياً اسمها:			
أ. العراق	ب. سوريا	ج. الصومال	د. المغرب
٢/ عدد حروف الكتابة المسمارية يبلغ:			
أ. ٥٠٠	ب. ٦٠٠	ج. ٧٠٠	د. ٨٠٠
٣/ ظهرت شرائع قانونية قديمة من أهمها شريعة حمورابي في بلاد:			
أ. اليمن	ب. الشام	ج. الرافدين	د. دلمون
٤/ حروف الأبجدية في حضارة جنوب غرب شبه الجزيرة العربية تتألف من:			
أ. ٢٨ حرفاً	ب. ٢٩ حرفاً	ج. ٣٠ حرفاً	د. ٣١ حرفاً



٤) صوب ما تحته خط في العبارات التالية:

الرقم	العبرة	التصويب
١.	يطلق اسم بلاد الرافدين أو بلاد ما بين النهرين على دولة عربية تسمى <u>الجزائر</u>	
٢.	الكتابة التي اخترعها السومريون قديما تسمى <u>الهيروغليفية</u>	
٣.	عدد حروف الكتابة المسمارية يبلغ ٥٠٠ حرف	
٤.	ظهرت شرائع قانونية قديمة من أهمها شريعة حمورابي في بلاد الشام	
٥.	أهم مدن حضارة سبأ مدينة تسمى <u>قرناو</u>	
٦.	اشهر ملوك سبأ التي ورد ذكرها في القران الكريم ملكة اسمها <u>نفرتيتي</u>	
٧.	اشهر ممالك اليمن القديمة ورد ذكرها في القران الكريم تسمى <u>حمير</u>	
٨.	الخط الذي كانت تكتب به الابجدية في حضارة جنوب غرب شبه الجزيرة العربية يسمى <u>خط النسخ</u>	
٩.	حروف الابجدية في حضارة جنوب غرب شبه الجزيرة العربية تتألف من <u>٢٨ حرف</u>	

٥) استنتج الرابط بين العناصر التالية:

١. بلاد الرافدين + دلمون + بلاداليمن + بلاد الشام + مصر القديمة = (.....)
٢. الموقع الاستراتيجي + توافر مصادر المياه + اعتدال المناخ + توفر الثروات الطبيعية + العنصر البشري = (.....)
٣. السومريون + الأكاديون + الكلدانيون + البابليون + الآشوريون = (.....)
٤. القمح + الفواكه + البقول + الكتان = (.....)
٥. الهندسة + الحساب + الفلك + الطب = (.....)
٦. النحت + البناء + الرسم الأواني الفخارية = (.....)
٧. معين + سبأ + حمير = (.....)
٨. الإسلامية + اليهودية + المسيحية = (.....)
٩. الأندلس + صقلية + الاحتلال الصليبي لبلاد الشام = (.....)

## ٦) ضع الحرف (أ) أمام العبارة الصحيحة، والحرف (ب) أمام العبارة الخاطئة مع التصويب:

الرقم	العبارة	أ	ب	التصويب
١	تعتبر الاهرامات من مظاهر الحضارة المصرية القديمة			
٢	سيطر على بلاد الرافدين خلال تاريخها القديم ثلاثة شعوب متتالية			
٣	سميت الحضارات التي قامت في بلاد الرافدين بأسماء المناطق والمدن التي قامت فيها			
٤	عدد حروف الكتابة المسمارية يبلغ ٥٠٠ حرف			
٥	يبلغ عدد المواد القانونية لشريعة حمورابي ٢٨١ مادة			
٦	عرفوا أهل اليمن بأنهم أسياد التجارة العربية			
٧	قامت دلمون وسط حضارات الشرق القديم			
٨	نزل القرآن الكريم على سيدنا محمد صلى الله عليه وسلم عام ٦٢٠ م			
٩	نزل القرآن الكريم على سيدنا محمد صلى الله عليه وسلم في مكة المكرمة			
١٠	يعتبر الإسلام خاتم الرسالات السماوية جميعا			
١١	الكتاب الذي أنزل على سيدنا عيسى ابن مريم - عليه السلام - اسمه التوراة			
١٢	للحضارة العربية الإسلامية فضل في إثراء الحضارة الأوروبية منذ القرن ١٠ م			

## ٧) من أنا :




أنا ملك بابل  
احتوت شرائعي  
على ٢٨٢ مادة  
اسمي.....

أنا ملكة  
حكمت مملكة  
سبأ أشير لي بالقرآن  
الكريم  
اسمي.....



( ٨ ) أكمل المخططات السهمية التالية:

الحضارات في الوطن العربي



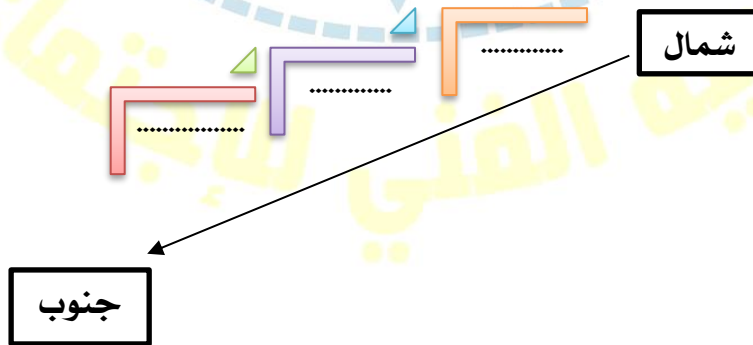
(٩) اختر للمجموعة (أ) ما يناسبها من المجموعة (ب) وذلك بوضع الرقم المناسب :

العاصمة	الرقم	الحضارة
قرناو		١ / حمير
مأرب		٢ / معين
ريدان		٣ / سبأ
		٤ / دلمون

الديانة	الرقم	الكتاب
الديانة الاسلامية		١ / كتاب الانجيل
الديانة المسيحية		٢ / كتاب التوراة
الديانة اليهودية		٣ / القرآن الكريم
		٤ / كتاب الزبور

(١٠) أعد ترتيب حضارات بلاد اليمن تصاعدياً من الشمال الى الجنوب :

( سبأ - حمير - معين )





## ١١ / لاحظ الشكل المقابل ، ثم أجب عن الأسئلة التالية :



- ١- ما اسم الشخصية في الصورة المقابلة.....
- ٢- يبلغ عدد المواد القانونية لشريعته ؟ .....
- ٣- ما أهم ما اشتهر به ؟.....
- ٤- ما المبدأ الذي اعتمد عليه ؟ .....
- ٥- ما النتائج المترتبة على تطبيق المبدأ .....

أ	ب	ج	د
هـ	و	ز	ح
ط	ي	ك	ل
م	ن	س	ع
ف	ق	ر	ش
ص	ض	ط	ظ
ع	غ	ف	ق
ك	خ	د	ذ
ر	ز	س	ص
ح	ج	ب	ا

لاحظ الشكل المقابل ثم أجب على الأسئلة التالية :

١- الشكل المقابل يمثل نوع من أنواع الكتابة



اسمها الكتابة .....

٢- ما الأدوات المستخدمة في الكتابة المسمارية ؟

أ..... ب.....

كم بلغ عدد حروف الكتابة المسمارية؟.....

## ١٢ / ضع عنوانا مناسباً لـ... ( الصور- الأشكال- الخرائط- المعلومات- ... الخ) التالية :



( ١٣ ) ضع عنوانا مناسباً للخريطة التالية :



الأسئلة المقالية :

( ١ ) عرف المفاهيم أو المصطلحات التالية :

١- الحضارة:

٢- بلاد الرافدين:

٣- أوائل:

٤- الديانة اليهودية:

٥- الديانة المسيحية:

٦- الديانة الإسلامية:

(٢) عدد ما يلي:

١) العوامل التي ساعدت على قيام الحضارة المصرية القديمة:

أ) .....

ب) .....

٢) العوامل التي ساعدت على ازدهار الزراعة في بلاد الرافدين:

أ) .....

ب) .....

٣) الحضارات المجاورة لحضارة جنوب غرب شبه الجزيرة العربية:

أ) .....

ب) .....

٤) طرق انتقال الحضارة العربية الإسلامية الى أوروبا:

أ) .....

ب) .....

٥) الصناعات التي اشتهرت بها بلاد الرافدين:

أ) .....

ب) .....

٦) أهم الأنشطة الاقتصادية لحضارة دلمون:

أ) .....

ب) .....

(٣) علل لما يلي:

١. كان للعوامل الطبيعية دور مهم في قيام الحضارة المصرية القديمة

أ) .....

ب) .....

٢. حرص المصريون القدماء على تحنيط جثث موتاهم

أ) .....

ب) .....

٣. منطقة جنوب غرب شبه الجزيرة العربية من اكثر مناطق شبه الجزيرة العربية ملائمة لقيام الحضارة

.....

٤. تعد حضارة دلمون مركزا مهما للمواصلات والتجارة البحرية

.....

٥. عاشت أوروبا في عصور الظلام

.....



(٤) برهن على صحة العبارة التالية:

١ / ( أمن المصريون بفكرة البعث والخلود )

١٢ اهتمام سكان جنوب غرب شبه الجزيرة العربية بالمشاريع الزراعية:

(٥) صنف الكلمات التالية الى مكانها المناسب في الجدول التالي:

١. ( نهر النيل - تنوع الصخور والمعادن - اعتدال المناخ وجفافه )

ربط بين اجزاء البلاد من الشمال الى الجنوب وساعدت على الاستقرار	المحافظة على الاثار من التلف	ساعدت المصريين على نحت التماثيل وبناء المعابد
.....	.....	.....

٢. المنسوجات - المعادن - الأحجار - المنتجات الزراعية - الأخشاب

الواردات الى بلاد الرافدين	الصادرات من بلاد الرافدين
.....	.....

٣. ( الانجيل - موسى عليه السلام - القرآن الكريم - عيسى عليه السلام - التوراة - محمد صلى الله عليه وسلم )

البند	الديانة الإسلامية	الديانة المسيحية	الديانة اليهودية
الكتاب	.....	.....	.....
النبي	.....	.....	.....

٤. ( المسمارية - الهيروغليفية - الابدجية )

الحضارة المصرية	حضارة بلاد الرافدين	حضارة بلاد اليمن
.....	.....	.....

٥. ( الصلاة - الشورى - العدل - الصوم - المساواة - الزكاة )

أسس الحضارة	مبادئ الإسلام
.....	.....



(٦) قارن بين كل من التالي:

١١ مقومات قيام الحضارة في الحضارة المصرية وحضارة بلاد الرافدين من حيث المطلوب:

وجه المقارنة	الحضارة المصرية القديمة	حضارة بلاد الرافدين
مصادر المياه العذبة	.....	.....
توافر الثروات الطبيعية	.....	.....
أهم المحاصيل الزراعية	.....	.....
أهم الصناعات	.....	.....
المعتقدات الدينية	.....	.....
العلوم والفنون	.....	.....
نوع الكتابة	.....	.....

١٢ حضارات بلاد اليمن من حيث المطلوب:

وجه المقارنة	معين	سبأ	حمير
العاصمة	.....	.....	.....
أهم معالمها	.....	.....	.....

١٣ الكتابة في حضارة بلاد الرافدين وبلاد اليمن من حيث المطلوب:

وجه المقارنة	حضارة بلاد الرافدين	حضارة وبلاد اليمن
اسم الكتابة		
عدد الأحرف		

(٧) أجب عن ما يلي:

١. ما اسم النهرين في بلاد الرافدين:

.....

٢. ماهي جهود سكان بلاد الرافدين في الزراعة

..... (أ)..... (ب).....

٣. اكتب اثنين من المظاهر الحضارية لحضارة جنوب غرب شبه الجزيرة العربية

..... (أ)..... (ب).....

ماهي أشهر المنتجات الزراعية لحضارة جنوب غرب شبه الجزيرة العربية

..... (أ)..... (ب).....

٤. اذكر حضارتين من الحضارات المجاورة لحضارة دلمون:

..... (أ)..... (ب).....

٥. اذكر أهم الأنشطة الاقتصادية لسكان حضارة دلمون

..... (أ)..... (ب).....

٦. ماهي أسس التي بنيت عليها الحضارة الاسلامية؟

..... (أ)..... (ب).....

(٨) اقرأ الفقرة التالية ثم أجب عما يليها من أسئلة:

نشطت الحياة في مصر القديمة بجميع نواحيها حيث تقدمت الزراعة وتطورت اساليبها وتنوعت المحاصيل الزراعية كالبقول والقمح والفواكه والكتان وتربية الماشية وقد مهر المصريين القدماء في الصناعة ايضا وخاصة صناعة الاواني الفخارية والمعدنية والملابس الكتانية والسفن والورق

١- اقترح عنوانا مناسباً للفقرة (الاقتراحات تكون من ذهن المتعلم ولا تكون مذكورة في الكتاب)

.....

٢- اذكر اهم الصناعات في الحضارة المصرية القديمة:

..... (أ)..... (ب).....

٣- عدد اهم المحاصيل الزراعية:

..... (أ)..... (ب).....

(٨) أمامك خريطة الوطن العربي أكتب الرقم الدال على العبارات التالية :



- حضارة دلمون تمثل رقم ( )
- الحضارة المصرية القديمة تمثل رقم ( )
- حضارة بلاد الشام تمثل رقم ( )
- حضارة بلاد اليمن تمثل رقم ( )
- حضارة بلاد الرافدين تمثل رقم ( )
- بحر القلزم يمثله على الخريطة الرقم ( )
- بحر العرب يمثله على الخريطة الرقم ( )